

① なんこ ありますか。



こ

② ぜんぶで 2 こ になるように みぎに ○ を かこう。



③ あなたが かいた ○ は なんこ ですか。



こ

④ あと いくつ で 2 に ないますか。



こ

⑤ したの しきに すうじを 入れて みよう。

1

+



=

2

① なんこ ありますか。



こ

② ぜんぶで 3 こ になるように みぎに ○ を かこう。



③ あなたが かいた ○ は なんこ ですか。

こ

④ あと いくつ で 3 に ないますか。



こ

⑤ したの しきに すうじを 入れて みよう。

1

+

=

3

① なんこ ありますか。



こ

② ぜんぶで 4 こ になるように みぎに ○ を かこう。



③ あなたが かいた ○ は なんこ ですか。

こ

④ あと いくつ で 4 に ないますか。

こ

⑤ したの しきに すうじを いれて みよう。

$$1 + \text{[ ]} = 4$$



① なんこ ありますか。

 こ

② ぜんぶで 5 こ になるように みぎに ○ を かこう。



③ あなたが かいた ○ は なんこ ですか。

↓

 こ

④ あと いくつ で 5 に ないますか。



↓

 こ

⑤ したの しきに すうじを 入れて みよう。

1 +  = 5

↓

① なんこ ありますか。

 こ

② ぜんぶで 3 こ になるように みぎに ○ を かこう。



③ あなたが かいた ○ は なんこ ですか。

 こ

④ あと いくつ で 3 に ないますか。

 こ

⑤ したの しきに すうじを 入れて みよう。

$$2 + \boxed{\phantom{00}} = 3$$

① なんこ ありますか。

 こ

② ぜんぶで 4 こ になるように みぎに ○ を かこう。



③ あなたが かいた ○ は なんこ ですか。

 こ

④ あと いくつで 4 になりますか。

 こ

⑤ したの しきに すうじを 入れて みよう。

$$2 + \boxed{\phantom{00}} = 4$$

① なんこ ありますか。

 こ


② ぜんぶで 5 こ になるように みぎに ○ を かこう。



③ あなたが かいた ○ は なんこ ですか。

  
 こ


④ あと いくつで 5 になりますか。

  
 こ


⑤ したの しきに すうじを 入れて みよう。

  
$$2 + \boxed{\phantom{00}} = 5$$

① なんこ ありますか。

 こ

② ぜんぶで 4 こ になるように みぎに ○ を かこう。




③ あなたが かいた ○ は なんこ ですか。

↓

 こ

④ あと いくつ で 4 に ないますか。



↓

 こ


⑤ したの しきに すうじを いれて みよう。

3 +  = 4


↓



① なんこ ありますか。

 こ

② ぜんぶで 5 こ になるように みぎに ○ を かこう。




③ あなたが かいた ○ は なんこ ですか。

↓

 こ

④ あと いくつ で 5 に ないますか。



↓

 こ

⑤ したの しきに すうじを いれて みよう。

3 +  = 5

↓

① なんこ ありますか。

 こ


② ぜんぶで 5 こ になるように みぎに ○ を かこう。



③ あなたが かいた ○ は なんこ ですか。

  
 こ

④ あと いくつで 5 になりますか。

  
 こ

⑤ したの しきに すうじを 入れて みよう。

  
$$4 + \boxed{\phantom{00}} = 5$$